

Adı:.....  
Soyadı:.....








**ETKİNLİK**

-1-

**1. Sınıf Matematik**

**" sayılar etkinliği "**

Aşağıdaki papatyalarda kaç yaprak varsa altına yazınız.



Aşağıdaki başta belirtilen sayı kadar elma çiziniz.

5

3

8

2

6

4

7

1

9

1

0

Adı:.....  
Soyadı:.....



## ETKİNLİK

-1-

### 1. Sınıf Matematik

### " sayılar etkinliği "

Aşağıdaki sayılara karşılık gelen çoklukları eşleştiriniz.

